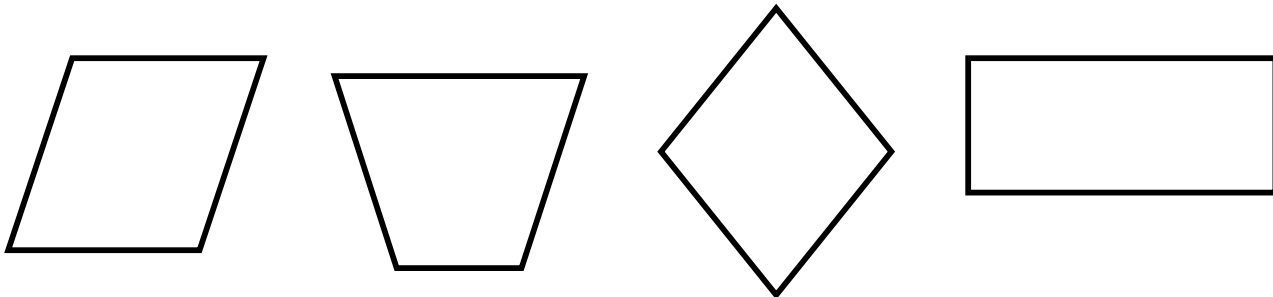


II) Coloca la letra que corresponda al nombre de cada polígono, según su número de lados.

- a) Pentágono \_\_\_\_\_ 4 Lados.
- b) Octógono \_\_\_\_\_ 10 Lados.
- c) Triángulo \_\_\_\_\_ 5 Lados.
- d) Cuadrilátero \_\_\_\_\_ 3 Lados.
- e) Decágono \_\_\_\_\_ 8 Lados.
- f) Heptágono \_\_\_\_\_ 7 Lados.

III) Escribe en nombre de cada cuadrilátero.






corresponda a la definición de cada


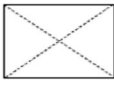
- a) Paralelogramo \_\_\_\_\_ 2 pares de lados paralelos.
- b) Rombo \_\_\_\_\_ 4 lados de igual medida y 4 ángulos interiores rectos.
- c) Cuadrado \_\_\_\_\_ 1 par de lados paralelos.
- d) Trapecio \_\_\_\_\_ Lados opuestos de igual medida y 4 ángulos inter. rectos.
- e) Romboide \_\_\_\_\_ Lados opuestos de igual medida y ángulos inter. no rectos.
- f) Trapezoide \_\_\_\_\_ No tiene lados paralelos.
- g) Rectángulo \_\_\_\_\_ 4 lados de igual medida y 4 ángulos interiores no son rectos.

1. Marca con una X la alternativa correcta.


• ¿Qué verías si observaras desde arriba el siguiente cuerpo geométrico?






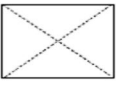
A.       C. 

B.       D. 


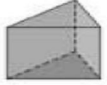
• ¿Qué figura corresponde a la vista desde un lado del siguiente cuerpo geométrico?





A.       C. 


B.       D. 

• ¿En cuál de los siguientes cuerpos, si se mira desde arriba y de frente se ve la misma figura?

A.       C. 

B.       D. 

• Juan observó un cuerpo geométrico de frente e hizo el siguiente dibujo. ¿A qué cuerpo geométrico puede corresponder?



A. Cono.  
B. Cilindro.  
C. Prisma de base cuadrada.  
D. Prisma de base pentagonal.

ente y desde un lado, los siguientes cuerpos geométricos.

Desde arriba

De frente

Desde un lado


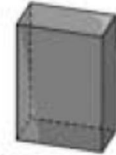
a)



b)

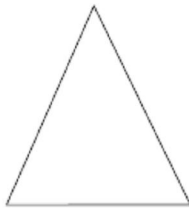


c)

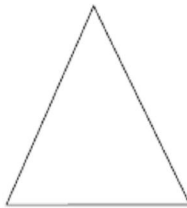


3. Andrea observó un cuerpo geométrico desde distintas posiciones e hizo los siguientes dibujos. Obsérvalos y responde.

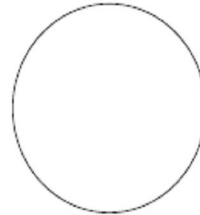
De frente



Desde un lado



Desde arriba



a) ¿Qué cuerpo geométrico observó Andrea?, ¿cómo lo sabes?

---

b) Dibuja, en la cuadrícula, el cuerpo geométrico que observó Andrea.

